

3 次

2017年度

聖園女学院中学校
入学試験問題

社 会

(時間 30分)

[注意事項]

1. 試験開始の合図があるまで中を開いてはいけません。
2. 受験番号・氏名を解答用紙の定められた欄にかならず記入下さい。
3. 試験問題の印刷がはっきりしない場合には手をあげ下さい。
4. 解答は解答用紙に記入し解答用紙のみ提出下さい。

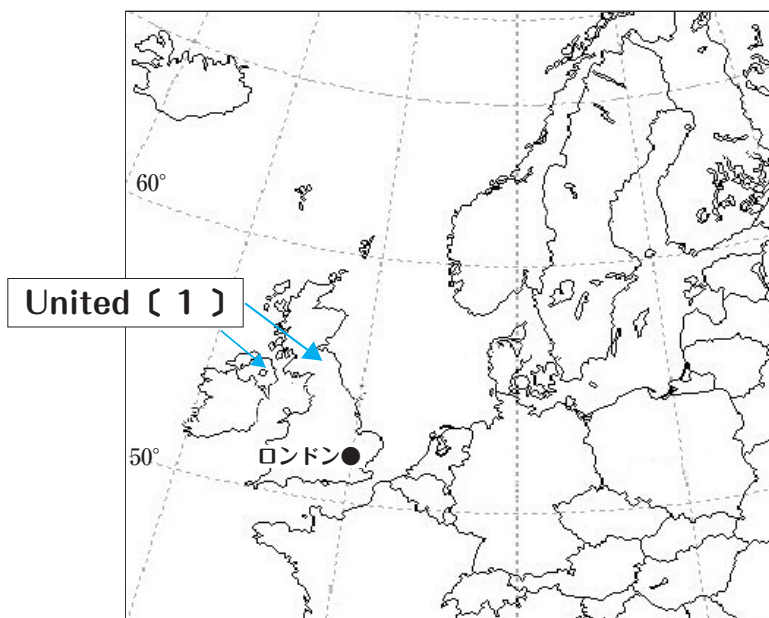
問題は、次のページから始まります。

【1】下の文を読み、問に答えなさい。

日本とイギリスは、ユーラシア大陸に近い島国という点で共通しています。そこでイギリスについて調べてみることにしました。地図帳を見ると、「イギリス」は、「グレートブリテン及び北アイルランド連合王国」のことであることがわかりました。また地図の中では、図のように「United〔1〕」と英語で表記されていました。

首都である〔ア〕ロンドン^アは、大陸と近い場所に位置しています。統計表を見ると、イギリスはいくつかの〔イ〕統計表^イで上位の国としてあげられていました。世界で一番大きな大陸に近い島国として発展してきた日本とイギリスについて、もっと調べてみたいと思いました。

図 I



問1 文中及び図 I 中の〔 1 〕にあてはまる語句として適切なものを、以下の1～3の中から1つ選び数字で答えなさい。

1. Nations 2. Kingdom 3. States

問2 下線部〔ア〕について、ロンドンよりも北に位置する都市を、以下の1～3の中から1つ選び数字で答えなさい。選択肢の()は、その都市がある国です。

1. モスクワ (ロシア) 2. 大阪 (日本) 3. 上海 (中国)

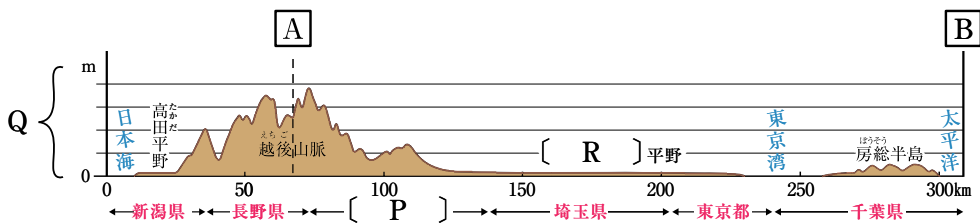
問3 下線部〔イ〕について、イギリスが上位に入っている統計表を集めてみようと思います。両方の統計表で、イギリスが上位5位以内に入っている組み合わせを、以下の1～3の中から1つ選び数字で答えなさい。

1. 「米の生産量の多い国 (2013)」と「小麦の生産量の多い国 (2013)」
2. 「1日あたりの石油消費量の多い国 (2014)」と「日本から訪問者が多い国・地域 (2013)」
3. 「国連分担金の多い国 (2015)」と「途上国援助総額の多い国 (2014)」

【2】平野と山について、図と下の文を読み問に答えなさい。

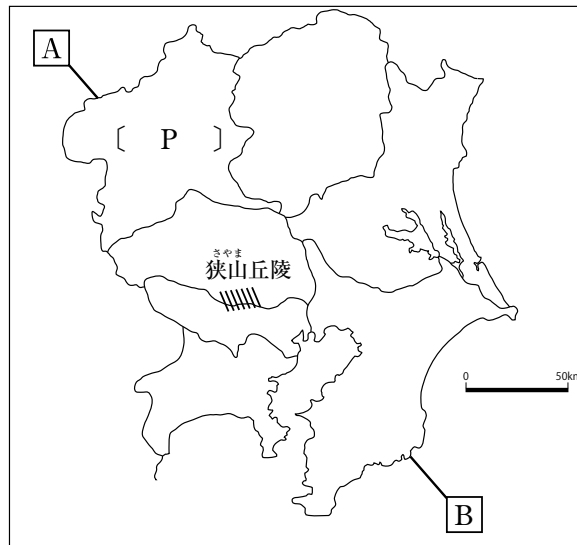
図 I は図 II 中の [A] から [B] を結んだ線の [ア] 断面を図にしたものです。これをみると、日本で最大の面積を持つ [R] 平野が、複数の都県にまたがる広大な平野であることがわかります。山や丘陵地は、平野よりも傾斜や標高があることにより、農業の工夫が必要です。日当たりや [イ] ^{どじょう} 土壌の特徴にあわせ、細やかな作付けの工夫を行い、労力をかけて作物を育ててきました。最近では、山地にある農地で耕作が困難になる例が増えており、地域に合わせた取り組みが行われています。

図 I



※参考のため図 I には [A] より日本海側までも記載されています。

図 II



問1 下線部〔ア〕について、図Ⅰと図Ⅱの〔 P 〕にあてはまる県を、以下の1～3から1つ選び数字で答えなさい。

1. 群馬県 2. 栃木県 3. 山梨県

問2 図ⅠのQで示した、標高の目盛は、何メートルごとに記されていますか。以下の1～3から1つ選び数字で答えなさい。

1. 100m 2. 500m 3. 1000m

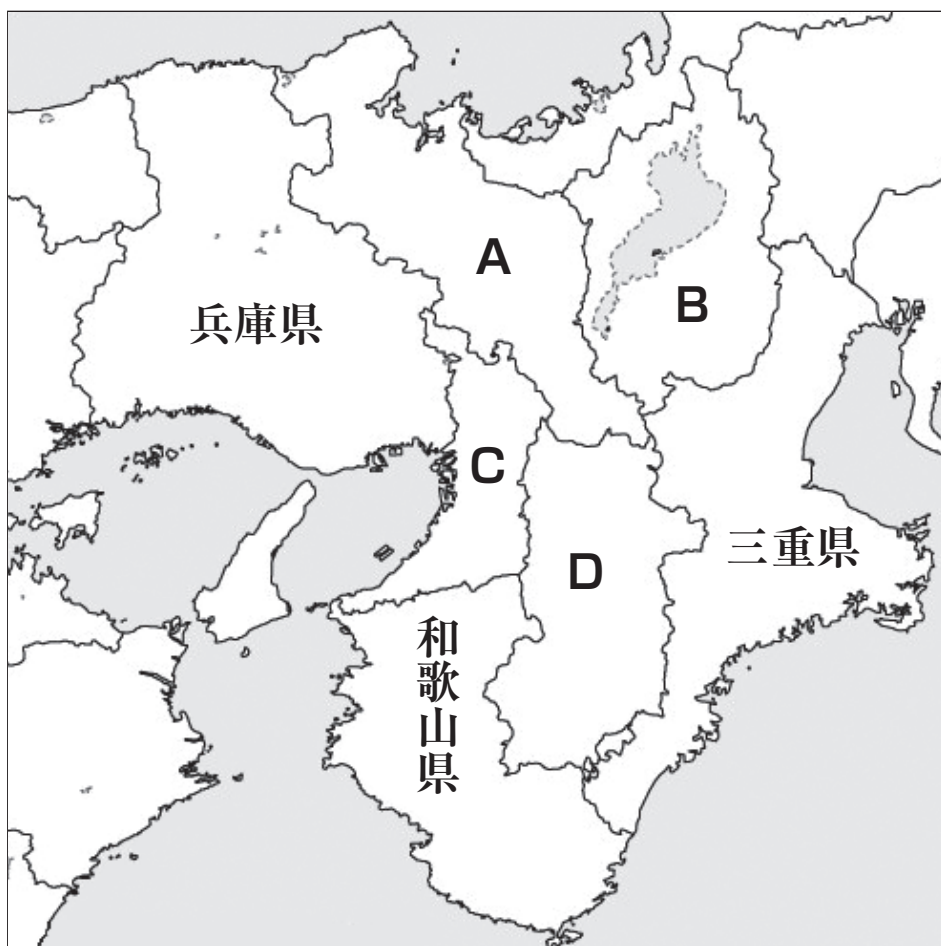
問3 文中及び図Ⅰの〔 R 〕にあてはまる平野の名称を漢字で答えなさい。

問4 下線部〔イ〕について、図Ⅱの斜線で示した狭山丘陵^{さやま}では、下の写真のように茶の栽培が盛んです。この作物の栽培に適した土壌^{どじょう}の特徴を述べなさい。



【3】小学校6年生のミソノさんは、夏休みを利用して近畿地方を旅行しました。ミソノさんはこの旅行の中で、1つの地域の中にもさまざまな時代の遺跡が存在していることを発見しました。下の地図中A～Dは、その時に訪れた府県を示しています。また、この旅行で歴史に興味を持ったミソノさんは、自分が住む関東地方の地域についてさまざまな時代のできごとを調べました。

2つの地方に関するできごとについて、問に答えなさい。



問1 地図中のAの場所について説明したものとして適切ではないものを、以下の1～3の中から1つ選び数字で答えなさい。

1. この場所では、平安京という都が造られ、朝廷の政治を一部の有力な貴族が動かすようになりました。例えば、藤原道長は大きな権力をふるい、世の中すべてが思い通りになっているという意味の歌をよんだほどでした。
2. この場所に建てられた金閣は、室町幕府3代将軍の山荘で、1階部分は障子に囲まれた書院造というつくりでできており、現在の和室のつくりを受けています。
3. 12世紀中ごろになると、貴族に仕える武士のうち勢力をのばした源氏と平氏が政治の実権をめぐる争いに巻き込まれるようになりました。この場所では、保元の乱・平治の乱がおこり、平氏が源氏をおさえ力を持つようになりました。

問2 地図中のAの場所について説明したものとして適切ではないものを、以下の1～3の中から1つ選び数字で答えなさい。

1. この場所で栄えた文化として、平安時代の文化があります。このころ、漢字が生まれ、清少納言が書いた「枕草子」や紫式部が書いた「源氏物語」など多くの文学作品が作られました。
2. この場所では、平安時代を中心に、主に貴族が寝殿造の大きなやしきでくらし、和歌などを楽しんでいたとされています。
3. この場所には、1582年に織田信長が全国統一の途中、家来の明智光秀におそわれて自害した、本能寺があります。

問3 地図中のBの場所について説明したものとして適切なものを、以下の1～3の中から1つ選び数字で答えなさい。

1. この場所では、16世紀後半に織田信長と武田氏が戦い、全国で最も強いといわれていた武田氏の騎馬隊を、新たに鉄砲を使った戦い方によって信長がやぶって勝利をおさめました。これを長篠の戦いとよんでいます。
2. この場所では、豊臣秀吉の死後、徳川家康が多くの大名を味方につけて勢いを強め、天下分け目の戦いといわれた関ヶ原の戦いで自分に反対する大名たちをやぶりました。
3. この場所では、織田信長が城を築き、全国統一の拠点としました。城下町ではだれでも商売ができ、市場の税や関所をなくすなど、これまでのしくみを変えて商業をさかんにしました。

問4 地図中のCの場所について説明したものとして適切ではないものを、以下の1～3の中から1つ選び数字で答えなさい。

1. この場所にある遺跡に、大山古墳があります。これは、5世紀につくられた日本最大の古墳で、前方後円墳の形をしているものです。
2. 16世紀に、豊臣秀吉がこの場所に城を築いて政治の拠点とし、支配している地域で検地を行うなどしてしくみを整えていきました。
3. 14世紀に鎌倉幕府がたおれると、やがて足利氏がこの場所に幕府を開きました。初代将軍の義満は中国と貿易を行うとともに、文化や芸術を保護しました。

問5 地図中のDの場所について説明したものとして適切ではないものを、以下の1～3の中から1つ選び数字で答えなさい。

1. この場所では、平城京という都が造られ、このころ位についた聖武天皇は全国の国分寺の中心である東大寺に大仏をつくる命令を出しました。
2. この場所にある法隆寺は、1300年以上前に建てられた世界最古の木造建築で、仏教を厚く信仰していた蘇我氏が建てたとされています。
3. この場所では、聖徳太子の死後、中大兄皇子らによって天皇を中心とする国づくりが始められました。これを大化の改新とよんでいます。

問6 群馬県には、2014年に世界遺産に登録された富岡製糸場があります。このことについて説明したものとして適切ではないものを、以下の1～3の中から1つ選び数字で答えなさい。

1. 富岡製糸場が開設された時代では、近代的な重工業が発展していったため、急速な経済成長がみられました。しかし高度経済成長のかけで、都市を中心に公害などの環境問題が問題視されるようになっていきました。
2. 富岡製糸場が開設された時代では、政府による改革が進んでおり、武士として得ていた収入を失った士族や西郷隆盛を中心とする西南戦争など、政府に対する反乱が起きました。
3. 富岡製糸場の開設当時、政府は殖産興業の方針から、近代的な工業を始めるために外国から機械を買い、技師を招いて国が運営する官営工場を開きました。

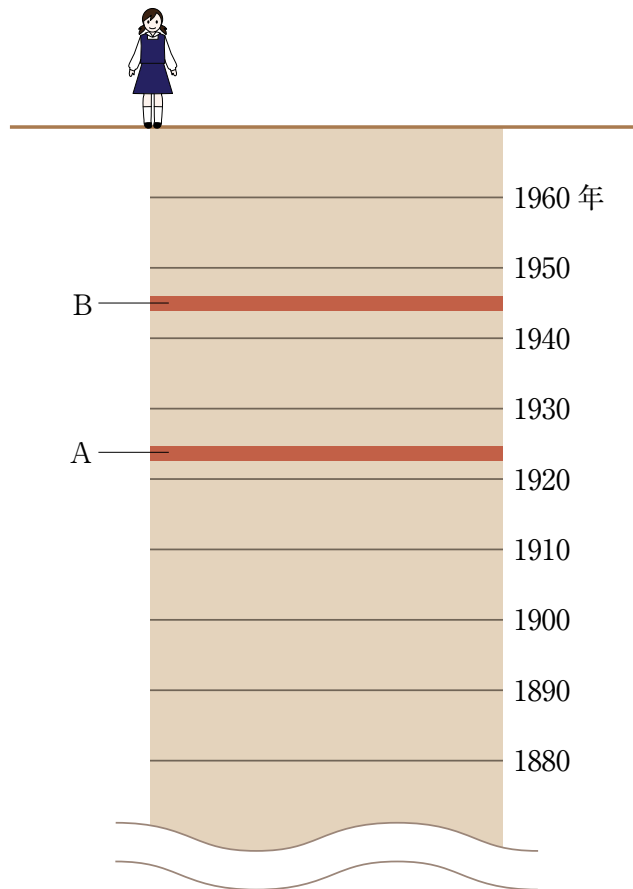
- 問7 栃木県には、かつて足尾銅山と呼ばれた鉱山がありました。ここでの作業で出た有害な廃水が付近の河川に流れ込み、被害を及ぼしたと言われています。下の写真の人物は、このことを政府に何度もうったえるなど、農民の生活を守る努力を行いました。この人物の氏名を漢字で答えなさい。



- 問8 神奈川県にある鎌倉は、12世紀末に源頼朝によって、幕府を置く場所として選ばれました。そこで、ミソノさんは鎌倉という土地の特徴に理由があると考えて、幕府周辺の復元図を調べてみました。鎌倉時代の復元図から読み取れることをふまえて、頼朝が幕府をおく場所として鎌倉を選んだ理由を説明しなさい。



問9 東京都の歴史を知る方法の1つとして、「地層図」があると知ったミソノさんは、明治時代から現代までの東京都の地層を調べ、自分で略図を作ってみました。すると、その地層のうち2層だけが「焼けて黒くなった土」を主成分としていることに気づきました。下の略図のうち、AとBが「焼けて黒くなった」土にあたります。なぜほかの地層と比べてそのような違いが生まれたのでしょうか。AとBの時期にそれぞれ何が起きたのかを明らかにして、その理由を説明しなさい。



【4】下の文を読み、問に答えなさい。

2016年の8月に天皇について話題になりました。現行の日本国憲法のもとでは、“天皇は、日本国の〔 A 〕であり日本国民統合の〔 A 〕であつて、この地位は、主権の存する日本国民の総意に基く”とあります。

問1 日本国憲法が施行された日は国民の祝日になっています。それは何月何日ですか。以下の1～3の中から1つ選び数字で答えなさい。

1. 4月29日 2. 5月3日 3. 11月3日

問2 文中の〔 A 〕にあてはまる語句を、以下の1～3の中から1つ選び数字で答えなさい。

1. 国王 2. 元首 3. 象徴

2016年の5月に、アメリカ合衆国の大統領として初めて、〔 B 〕大統領が広島を訪問しました。太平洋戦争が終結する直前の1945年に広島と長崎に原子爆弾が投下され、多くの人々の命が失われました。原子爆弾の投下から71年経った今でも、この1年間に広島では5000人以上、長崎では3000人以上の被爆者の方が亡くなっています。

問3 長崎に原子爆弾が投下された日付を、以下の1～3の中から1つ選び数字で答えなさい。

1. 8月6日 2. 8月9日 3. 8月15日

問4 文中の〔 B 〕にあてはまる語句を、カタカナで答えなさい。

医学の進歩や食生活の向上などによって、日本は世界一の長寿国となりました。2010年には、老年人口(65歳以上)が2868万人であったのに対して生産年齢人口(15~64歳)は8171万人でしたので、生産年齢人口2.8人で老年人口1人の割合になりました。ちなみに、1975年には生産年齢人口8.6人で老年人口1人の割合でした。

高齢社会に対応するために、私たち一人ひとりが心と知恵を働かせるとともに、行政機関などにもさまざまな施策が求められています。

- 問5 一人ひとりを大切にし、誰もが住みやすい社会をつくるための対策が進められています。駅の構内にエレベーターやエスカレーターを設置したり、住宅や町中で段差を少なくしたりすることを何といいますか。カタカナ6文字で答えなさい。
- 問6 社会全体で高齢者を支えることを目的に、2000年4月からスタートした新しい社会保障制度を何といいますか。漢字4文字で答えなさい。
- 問7 上の文にあるように、高齢者の割合が増加していくことは明らかです。あなたが成人になった時、高齢者がより生きやすい社会にしていこうためにどういうことができると思いますか。3つ答えなさい。

問題は、ここで終わりです。