

1 次

2018年度

聖園女学院中学校
入学試験問題

社 会

(時間 30分)

〔注意事項〕

1. 試験開始の合図があるまで中を開いてはいけません。
2. 受験番号・氏名を解答用紙の定められた欄にかならず記入しなさい。
3. 試験問題の印刷がはっきりしない場合には手をあげなさい。
4. 解答は解答用紙に記入し解答用紙のみ提出しなさい。

問題は、次のページから始まります。

【1】 下の文を読み、問に答えなさい。

小学6年生のミソノさんは、2017年の2月に就任したアメリカ合衆国のドナルド・トランプ大統領に興味を持ち、「アメリカ合衆国の現在」を調べています。

様々な書籍やインターネットなどを調べた中で、ミソノさんは以下の3つの点に注目し、考えました。

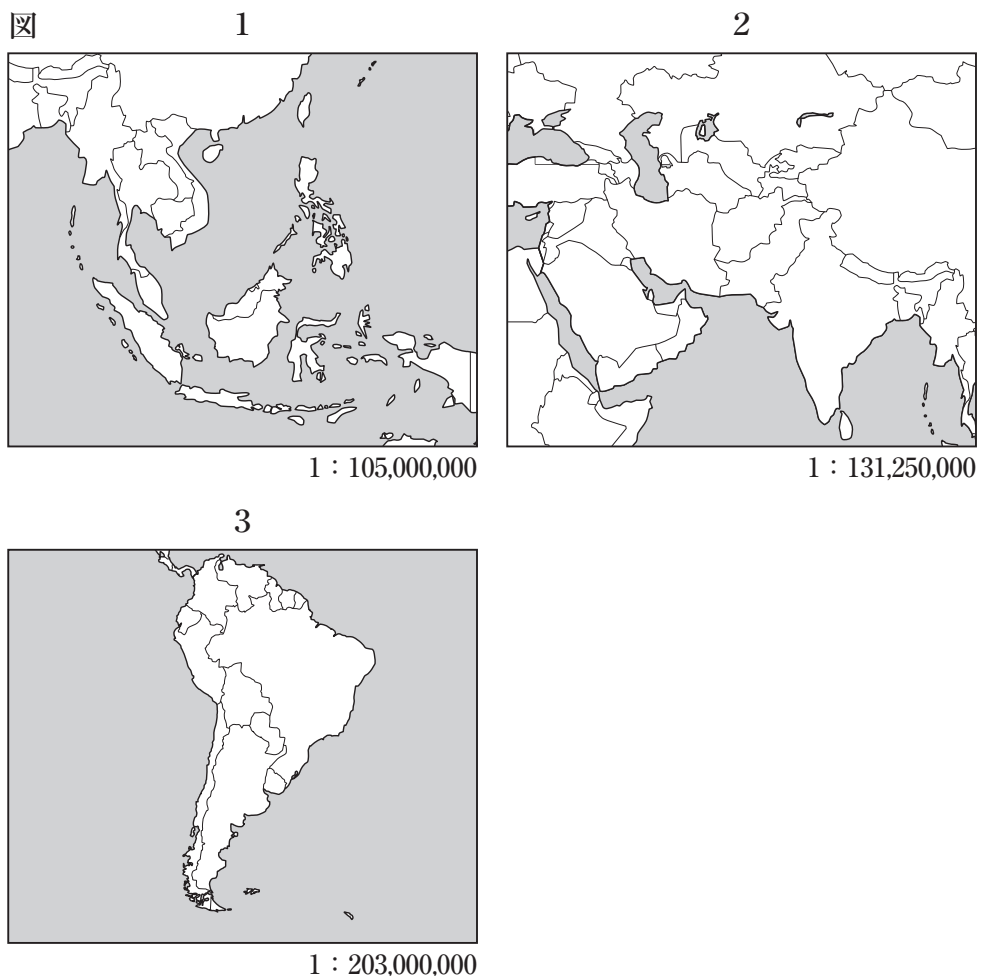
1. イスラム圏7か国からの入国を禁止する大統領令を出したこと。アメリカは「〔ア〕 移民の国」という歴史を持っているのに、どうしてそのような行動にでたのでしょうか。
2. TPP（環太平洋経済連携協定）からの離脱を表明したこと。もともとは自由貿易を推進しようとする中心的な国であったため、〔イ〕 アメリカが抜けることは世界に大きな影響を与えるでしょう。
3. 2017年6月には、温暖化対策の 〔ウ〕 パリ協定からの離脱を表明したこと。このことが、地球全体の自然環境問題にどう影響していくのでしょうか。

ミソノさんは自分が学習した自然環境や経済、社会のしくみは、1つのきっかけによって大きく変化するものであるということに気がきました。現状を知り、未来の社会をより良くしていくためには、自分自身の頭で考え、判断していくことが必要ですね。

問1 下線部〔ア〕について、下の表1はアメリカ合衆国への移民が多い国をまとめたものです。下の表1にある国がいずれも含まれていない地図として適切なものを、以下の図1～3の中から1つ選び数字で答えなさい。

順位	国名
1	メキシコ
2	中華人民共和国
3	インド
4	フィリピン

【出典：International Migration Outlook 2017 United States】



問2 下線部〔イ〕について、アメリカは貿易をはじめ世界のさまざまな仕組みに大きな影響を与えています。以下の1～3の中で、アメリカが上位3国に入っていないものはどれですか。1つ選び数字で答えなさい。

1. 米の生産量の多い国（粳量）（2014年）
2. 途上国援助総額の多い国（2015年）
3. 一日あたりの石油の消費量の多い国（2015年）

【出典：1, 2 世界国勢図会（2016/17年版）

3 BP世界エネルギー統計2016〔石油消費(2015年)〕】

問3 下線部〔ウ〕は、パリで開催したCOP21で話し合われた、地球温暖化対策の新たな国際的決まりです。この会議に参加した国とその国にある都市との組み合わせとして適切なものを、以下の1～3の中から1つ選び数字で答えなさい。

1. 中華人民共和国 — ソウル
2. ロシア連邦 — ウランバートル
3. インド — ニューデリー

【2】 下の文を読み、問に答えなさい。

2017年8月から約3年後の2020年に、東京オリンピック・パラリンピックが開催されます。公益財団法人東京オリンピック・パラリンピック競技大会組織委員会が掲げる「大会ビジョン」は以下のようなものです。

・全員が自己ベスト

万全の準備と運営によって、安全・安心で、すべてのアスリートが最高のパフォーマンスを発揮し、自己ベストを記録できる大会を実現。

世界最高水準のテクノロジーを〔ア〕競技会場の整備や大会運営に活用。(中略)

・多様性と調和

人種、肌の色、性別、性的指向、言語、宗教、政治、障がいの有無など、あらゆる面での違いを肯定し、自然に受け入れ、互いに認め合うことで社会は進歩。

東京2020大会を、世界中の人々が多様性と調和の重要性を改めて認識し、共生社会をはぐくむ契機となるような大会とする。

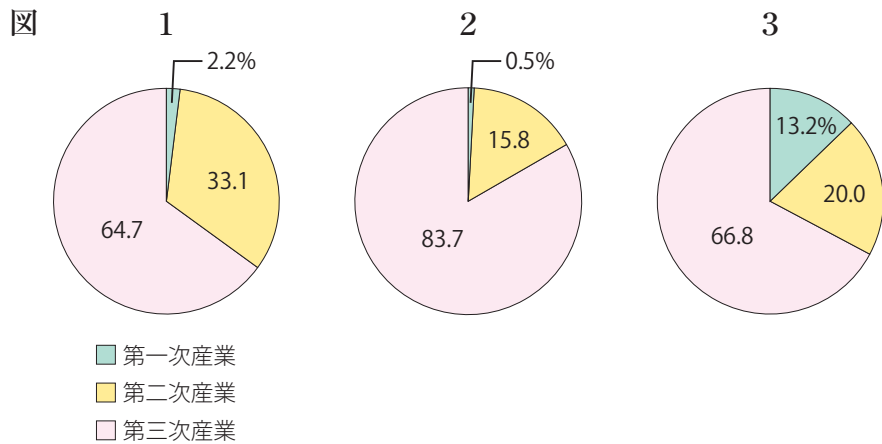
【出典：公益財団法人東京オリンピック・パラリンピック競技大会組織委員会
ホームページ <https://tokyo2020.jp/jp/games/vision/>
「大会ビジョン」より一部抜粋】

1964年の東京五輪開催後、政治や〔イ〕産業構造などは大きく変化しました。2020年に向けて、今ふたたび大きな変化の準備の時を迎えています。その変化は、〔ウ〕東京都周辺の問題だけにはとどまらず、日本全体に広がりを見せると考えられます。東京五輪後の日本社会がどう変わるのかということを考えると、私たちが現在に必要な行動が見えてくるかもしれません。

問1 下線部〔ア〕について、東京都は会場整備を中心に「持続可能な環境都市モデルを提案し、豊かな都市環境を実現していく」と考えています。このような都市環境の実現のための取り組みとして適切ではないものを、以下の1～3の中から1つ選び数字で答えなさい。

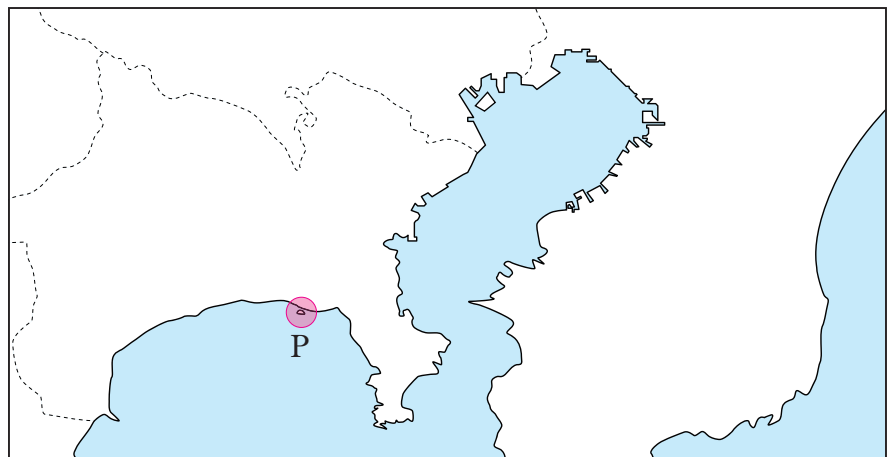
1. 大会施設等で、太陽光発電や地中熱利用ヒートポンプなど、再生可能エネルギー、省エネルギー技術の積極的な導入をおこなう。
2. 大会の開催のそれぞれの段階で、競技会場建設から廃棄物処理までを円滑にするために、廃棄物処理場を増やす。
3. 都営バスに燃料電池バスを率先して導入するとともに、電気自動車などの次世代自動車の導入を支援する。

問2 下線部〔イ〕に関連して、下の図1～3は東京都・愛知県・青森県のいずれかの産業別人口割合を表わしたものです。このうち、東京都にあたるものを、以下の図1～3の中から1つ選び数字で答えなさい。



【出典：総務省統計局「平成27年 国勢調査結果」】

問3 下の図中の地域Pは、2020年東京五輪のセーリング競技開催予定地です（2017年8月現在）。地域Pを含む湾の名称を漢字で答えなさい。



1 : 1,240,000

問4 下線部〔ウ〕について、近年、東京都を中心に都市の気温が周囲よりも高くなる「ヒートアイランド現象」が起こっています。この現象が都心に住む人々の生活にどのような影響を及ぼしていますか。また、「ヒートアイランド現象」を軽減するための対策もあわせて説明しなさい。

【3】下の文を読み、問に答えなさい。

我々人類の歴史は「ものづくりの歴史」とも言えるのではないでしょうか。先人たちが努力、工夫の末につくり出したさまざまな「もの」に関する問に答えなさい。

(資料1)

問1 (資料1)の道具が使用されはじめた頃の人々の生活の特徴を述べた説明文として適切なものを、以下の1～3の中から1つ選び数字で答えなさい。



1. 仏教が伝わり、寺院がつくられるようになりました。
2. 米の生産を増やすために、共同で水田を広げたり、用水路をつくったりしました。一方で、米づくりが広がると、ムラどうしの争いが起こるようになりました。
3. 大陸や朝鮮半島から争いをのがれて、日本に多くの人々が移住してきました。彼らは漢字を使うこと、はた織りや焼き物づくりをもたらしました。

問2 (資料2)の建造物は現存する世界最古の木造建築物として有名ですが、この建造物がつくられた頃の説明文として適切なものを、以下の1～3の中から1つ選び数字で答えなさい。


(資料2)



1. 冠位十二階が定められ、家柄にとらわれず、能力や功績のある人が重要な役職につけるようになりました。
2. 貴族たちが寝殿造と呼ばれる広い屋敷に住み、囲碁やけまりなどの遊びを楽しんだり、和歌をよんだりして過ごしました。
3. 豪族たちが連合して大和政権という政府をつくり、各地に巨大な古墳と呼ばれる墓をつくっていました。

問3 (資料3)の仏像がつくられた頃に活躍した人物の説明文として適切なものを、以下の1～3の中から1つ選び数字で答えなさい。

(資料3)



1. 卑弥呼という邪馬台国の女王が中国に使いを送り、金印や銅の鏡を与えられ、日本を治めていました。
2. 渡来人の子孫である行基は道路や橋、ため池をつくる土木工事を進め、人々からしたわれていました。
3. 藤原道長は、3人のむすめを天皇のきさきにし、天皇と強い結びつきをもつことで政治の実権をにぎりました。

問4 (資料4) はある信仰を弾圧するために用いられた「道具」ですが、この道具が使われていた時代の説明文として適切なものを、以下の1～3の中から1つ選び数字で答えなさい。


(資料4)



1. 検地と刀狩によって武士と百姓、町人の身分が区別されるようになりました。
2. 京都で応仁の乱という大きな戦いが起こり、その後大商人が町の代表となり、町の人々とともに自分たちの町を守っていました。
3. 大名は石高によって決められた人数の行列を組み、江戸と領地の間を一年おきに行き来しました。

問5 (資料5) は明治5年の鉄道開通の様子です。この時、日本で初めて鉄道が走りましたが、この鉄道は新橋を出発するとどこが終着駅でしたか。終着駅の名前を漢字で答えなさい。

(資料5)




問6 (資料6) は昭和20年8月9日の原爆投下を境に大きく変化したある都市の様子をうつした写真ですが、ある都市とはどこですか。都市名を漢字で答えなさい。

(資料6)



問7 (資料7) のような輸送手段が整備された時代は、日本の経済が急速に発展した時代でした。この発展の様子を何と呼んでいますか。「() 成長の時代」の空欄にあてはまる語句を漢字で答えなさい。

(資料7)



問8 (資料8) はある時代を代表する建造物ですが、その時代には現在に続く日本の伝統文化がいくつも現れました。この時期に誕生した日本の伝統文化の名称を具体的に一つあげなさい。また、伝統文化がなぜ、この時代に誕生したのか、その理由を答えなさい。

(資料8)



問9 (資料9) は明治時代の産業の発達とその影響に関するものです。(資料9) をふまえて、明治時代の産業の発達とその影響について説明しなさい。


(資料9)



富岡製糸場



足尾銅山



田中正造

【4】下の文を読み、問に答えなさい。

世界には数多くの民族が存在し、それぞれに独自の文化を持っています。北海道からロシアに居住しているアイヌもその一つです。

アイヌの人々は、〔ア〕独自の文化を守るためにさまざまな働きかけをしています。例えば、平取町二風谷ではアイヌの人々を中心に〔イ〕大切な自然を保護するために山を買い取っています。中世にアイヌの人々の居住地だった〔ウ〕厚岸湖も、原始的な自然が残っており環境の保全が進んでいます。また、アイヌの伝統的な踊りであるアイヌ古式舞踊は、〔エ〕無形文化遺産として登録されています。

アイヌの人々は、人権が十分に守られておらず、独自の文化や言語が消滅する危機に瀕しています。

〔オ〕アムネスティ・インターナショナルという民間の団体は、アイヌの人々に対する差別の解消にも取り組んでいます。〔カ〕国際連合においても、2007年にアイヌの人々を含む世界の先住民族の権利を守ることを目指す宣言が採択されました。

多様な民族が存在する中で、私たちは日々変化し続ける社会問題や〔キ〕環境問題に積極的に取り組んでいく必要があります。

問1 下線部〔ア〕について、アイヌの人々の文化を保護する目的で1997年に制定された法律を何といいますか。答えなさい。

問2 下線部〔イ〕について、このような運動を何といいますか。カナカナで答えなさい。

問3 下線部〔ウ〕について、^{あつけしこ}厚岸湖は水鳥などが集まる国際的に重要な湿地としてある条約に登録されています。この条約名として適切なものを、以下の1～4の中から1つ選び数字で答えなさい。

1. ワシントン条約
2. バーゼル条約
3. リスボン条約
4. ラムサール条約

問4 下線部〔エ〕について、世界遺産の登録と保護の活動を行っている国際連合の専門機関を何といいますか。適切なものを、以下の1～4の中から1つ選び数字で答えなさい。

1. UNEP (ユネップ)
2. UNESCO (ユネスコ)
3. UNICEF (ユニセフ)
4. UNCTAD (アンクタッド)

問5 下線部〔オ〕について、この団体は国境にとらわれず協力して活動する非政府組織の一例です。このような団体をアルファベットで何と表わしますか。適切なものを、以下の1～4の中から1つ選び数字で答えなさい。

1. NPO
2. WHO
3. NGO
4. WTO

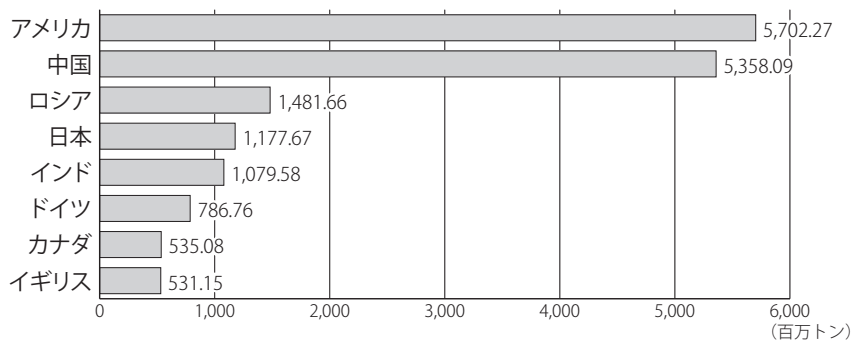
問6 下線部〔カ〕について、国際連合の本部がある都市として適切なものを、以下の1～4の中から1つ選び数字で答えなさい。

1. ニューヨーク
2. スtockホルム
3. ハーグ
4. ジュネーブ

問7 下線部〔キ〕について、地球環境の保全のため、世界全体でさまざまな取り決めがなされています。1997年に採択され2005年に発効された京都議定書が例にあげられます。以下の図1は2005年の世界の二酸化炭素排出量を表わしています。表1は京都議定書で二酸化炭素削減義務があった国名、表2は2005年の発効までに京都議定書の批准を拒否した国名です。

京都議定書の課題を、以下の図や表を参考に述べなさい。

図1 世界の二酸化炭素排出量（上位国・国別）



【出典：IEA(国際エネルギー機関) 資料：GLOBAL NOTE
(<https://www.globalnote.jp/post-1621.html>) より】

表1	上の図1のうち、 京都議定書で二酸化炭素削減義務があった国
	アメリカ、ロシア、日本、ドイツ、イギリス、 カナダ

表2	上の図1のうち、京都議定書の批准を拒否した国
	アメリカ

問題は、ここで終わりです。

